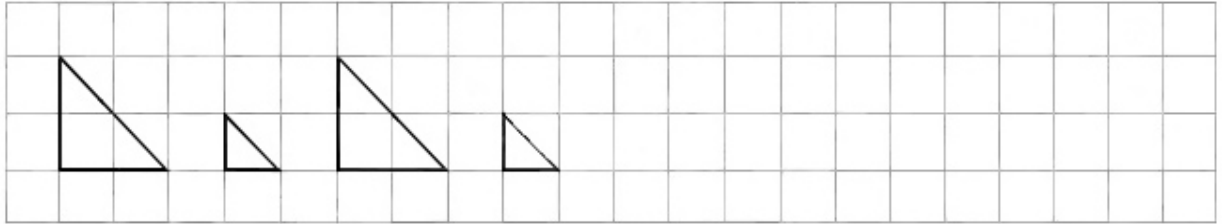


## Контрольная работа № 1


Вариант 1

1. Смотри и продолжай:

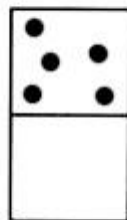


2. Рассмотрите каждую пару квадратов. В верхнем квадрате поставлено несколько точек. Дорисуйте точки в нижнем квадрате, чтобы их было:


а) столько же



б) больше



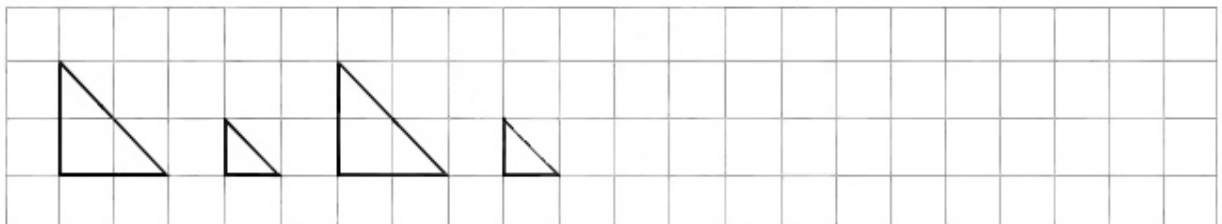
в) меньше



## Контрольная работа № 1


Вариант 2

1. Смотри и продолжай:




2. Рассмотрите каждую пару квадратов. В верхнем квадрате поставлено несколько точек. Дорисуйте точки в нижнем квадрате, чтобы их было:


а) столько же



б) больше



в) меньше



## Контрольная работа № 2

Вариант 1

1. Какое число пропущено: 1, 2, 3, 5, 6? Запиши. \_\_\_\_\_

2. Реши примеры:

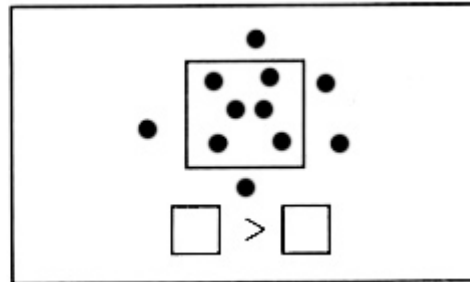
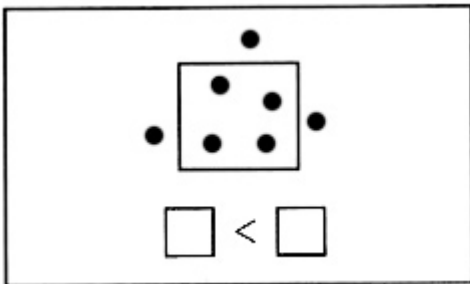
$2 + 1 = \square$

$3 - 1 = \square$

$4 - 1 = \square$

$5 + 1 = \square$

3. Сравни количество точек внутри и вне квадрата. Восстанови записи:



## Контрольная работа № 2

Вариант 2

1. Какое число пропущено: 1, 2, 3, 4, 6? Запиши. \_\_\_\_\_

2. Реши примеры:

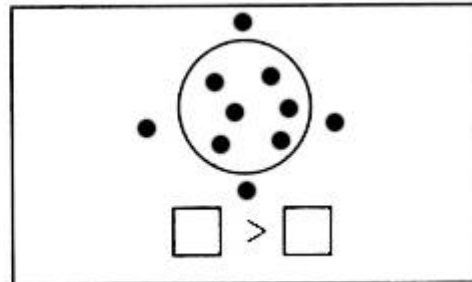
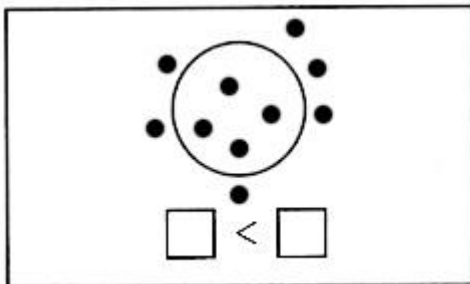
$2 - 1 = \square$

$4 + 1 = \square$

$3 + 1 = \square$

$6 - 1 = \square$

3. Сравни количество точек внутри и вне круга. Восстанови записи:







## Контрольная работа № 3

Вариант 2

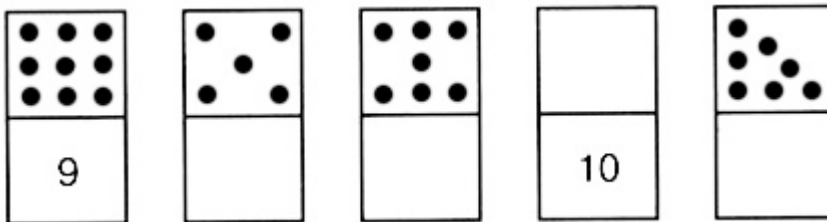
1. Смотри, пиши и продолжай:



2. Начерти отрезок ВД длиной 6 клеток. Отметь на нем точку С так, чтобы длина СД составляла 4 клетки.



3. Заполни пустые квадраты:



4. Реши примеры:

$6 + 2 = \square$

$5 + 3 = \square$

$3 + 3 - 4 = \square$

$3 + 4 = \square$

$8 - 7 = \square$

$2 - 1 + 9 = \square$

$7 - 1 = \square$

$2 + 6 = \square$

$4 - 3 + 2 = \square$

5. У Маши было 7 открыток. Из них 2 открытки она подарила подруге. Сколько открыток осталось у Маши?

Решение: \_\_\_\_\_

Ответ: \_\_\_\_\_





## Контрольная работа № 5

### Вариант 1

1. Вычисли:

$4 + 5 = \square$

$9 - 3 - 2 = \square$

$8 - 3 = \square$

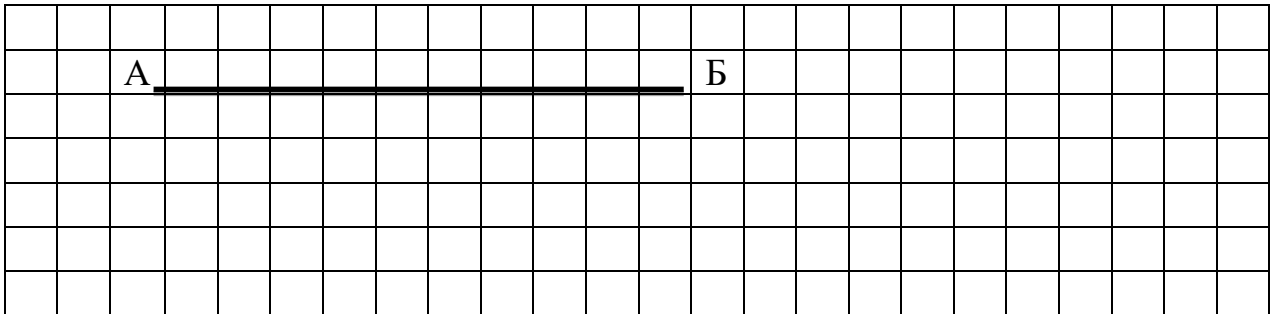
$4 - 0 + 6 = \square$

2. Сравни:


$7 \text{ кг} - 5 \text{ кг} \square 9 \text{ кг} - 6 \text{ кг}$

$2 \text{ см} + 6 \text{ см} \square 10 \text{ см} - 2 \text{ см}$


3. Начерти отрезок СД на 3 см короче отрезка АБ:



4. Масса дыни 6 кг, а арбуза 4 кг. На сколько килограммов дыня тяжелее арбуза?



5. Света купила 2 тетради в клетку, а в линейку — на 5 тетрадей больше. Сколько всего тетрадей купила Света?



## Контрольная работа № 5

### Вариант 2

1. Вычисли:

$2 + 6 = \square$

$9 - 7 + 2 = \square$

$7 - 5 = \square$

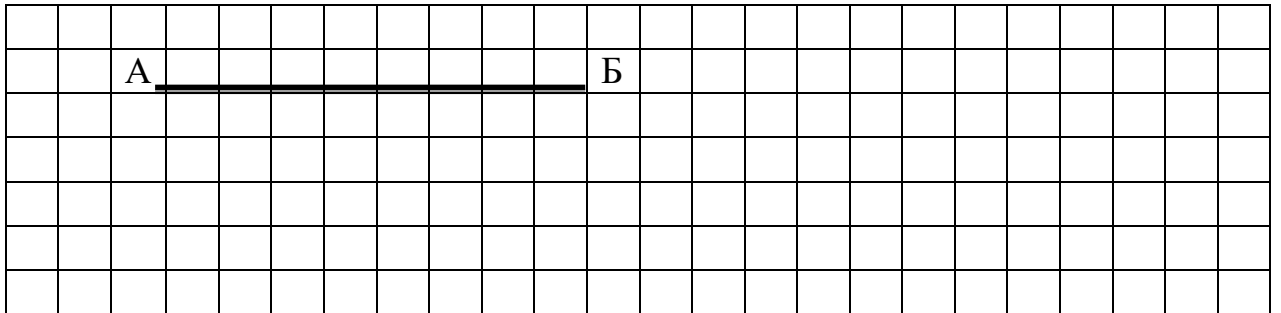
$4 + 5 - 8 = \square$

2. Сравни:


$3 \text{ см} + 5 \text{ см} \square 10 \text{ см} - 4 \text{ см}$

$9 \text{ кг} - 6 \text{ кг} \square 2 \text{ кг} + 2 \text{ кг}$


3. Начерти отрезок СД на 2 см длиннее отрезка АБ:



4. В банке было 3 кг варенья, а в кастрюле — 5 кг. На сколько килограммов варенья больше в кастрюле, чем в банке?



5. Мама купила 5 кг картофеля, а капусты на 2 кг меньше. Сколько всего килограммов овощей купила мама?









## Контрольная работа № 7

### Вариант 1

#### 1. Заполни пропуски:

$15 = 10 + \square$

$3 = 9 + \square$

$12 = \square + 2$

$16 = \square + 8$

#### 2. Сравни:

$1 \text{ дм } 2 \text{ см } \square 11 \text{ см}$

$16 \text{ см} - 12 \text{ см } \square 1 \text{ дм} - 7 \text{ см}$

#### 3. Выполни действия:

$6 + 9 = \square$

$18 - 7 = \square$

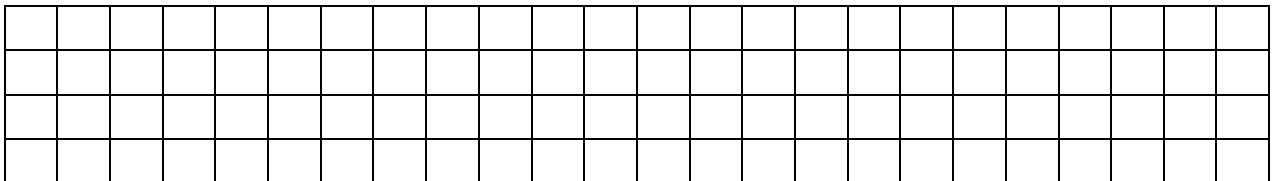
$4 + 8 - 11 = \square$

$14 - 13 = \square$


$20 - 16 = \square$

$12 + 3 - 9 = \square$

#### 4. Начерти отрезок длиной 1 дм 5 см.



#### 5. В спортивной секции занимаются 8 девочек, а мальчиков на 4 больше. Сколько всего ребят занимаются в секции?



## Контрольная работа № 7

### Вариант 2

#### 1. Заполни пропуски:

$14 = 10 + \square$

$7 = 8 + \square$

$19 = \square + 9$

$12 = \square + 6$

#### 2. Сравни:

$14 \text{ см } \square 1 \text{ дм } 5 \text{ см}$

$19 \text{ см} - 5 \text{ см } \square 1 \text{ дм} + 4 \text{ см}$

#### 3. Выполни действия:

$8 + 5 = \square$

$14 - 6 = \square$

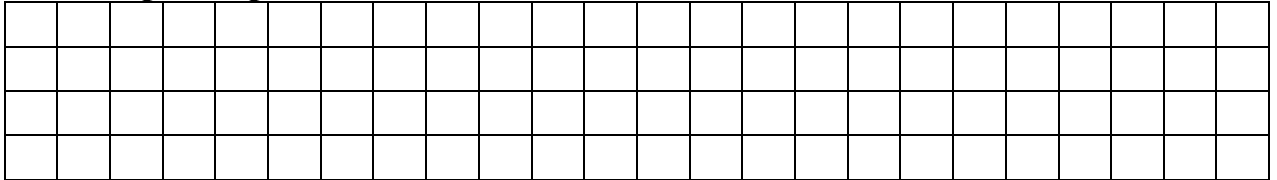
$9 + 7 - 12 = \square$

$17 - 12 = \square$


$20 - 13 = \square$

$16 - 8 + 7 = \square$

#### 4. Начерти отрезок длиной 1 дм 2 см.



5. В саду растет 9 яблонь, а слив — на 2 дерева больше. Сколько всего яблонь и слив растет в саду?



**ИТОГОВАЯ КОНТРОЛЬНАЯ РАБОТА  
ЗА 1 КЛАСС**

**Вариант 1**

**1. Выполни действия:**

$6 + 10 = \square$

$15 - 11 = \square$


$13 + 7 = \square$

$18 - 10 = \square$

$5 + 9 = \square$

$17 - 8 = \square$

**2. Начерти квадрат со стороной 3 см.**



**3. Сравни:**


$13 \text{ кг} \square 14 \text{ кг}$

$3 \text{ л} + 8 \text{ л} \square 11 \text{ л}$

$11 \text{ см} \square 9 \text{ см}$

$1 \text{ дм} 7 \text{ см} \square 18 \text{ см}$

**4. Для детского сада купили 9 мячей, а кукол — на 3 меньше. Сколько всего игрушек купили для детского сада?**



**ИТОГОВАЯ КОНТРОЛЬНАЯ РАБОТА  
ЗА 1 КЛАСС**

**Вариант 2**

**1.Выполни действия:**

$12 + 5 = \square$

$19 - 14 = \square$


$4 + 10 = \square$

$20 - 10 = \square$

$6 + 7 = \square$

$14 - 9 = \square$

**2.Начерти квадрат со стороной 2 см.**



**3.Сравни:**

$15 \text{ кг} \square 12 \text{ кг}$

$6 \text{ л} + 7 \text{ л} \square 14 \text{ л}$

$8 \text{ см} \square 11 \text{ см}$

$1 \text{ дм} 5 \text{ см} \square 16 \text{ см}$

**4. В пакете было 8 шоколадных пряников, а мятных — на 3 больше. Сколько всего пряников было в пакете?**

